

1

J'ai 4 paquets de 2 crayons.
Combien cela fait-il de crayons ?

5

Lana a 3 billets de 5 euros.
Combien a-t-elle d'argent ?

2

Maman a 9 gâteaux. Elle les distribue entre ses 3 enfants.
Combien chaque enfant aura-t-il de gâteaux ?

6

Lucas achète 4 livres. Chaque livre coûte 2 euros. Combien doit-il payer ?

3

Mon frère a 2 sacs de 5 billes.
Combien a-t-il de billes ?

7

Maman a 12 œufs, et veut les ranger dans des boîtes de 6 œufs. De combien de boîtes aura-t-elle besoin ?

4

Léo a 12 cartes. Elle en donne autant à chacune de ses 4 amies.
Combien chaque amie aura-t-elle de cartes ?

8

Manon doit distribuer 15 crayons à 5 élèves. Combien chaque élève aura-t-il de crayons ?

5



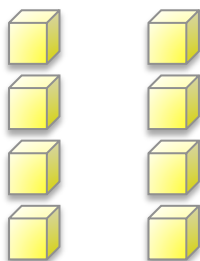
Lana a 15 €.

1



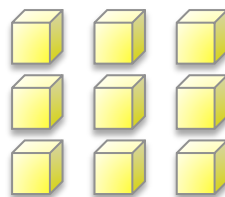
J'ai 8 crayons.

6



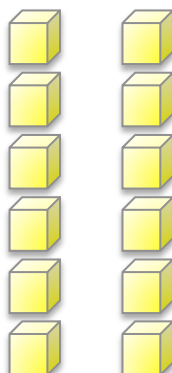
Lucas va payer 8 €.

2



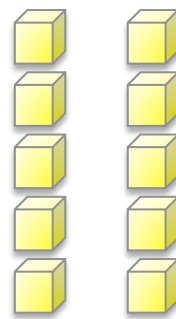
Chaque enfant a 3 gâteaux.

7



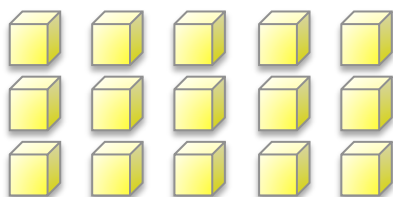
Maman a besoin de 2 boites.

3



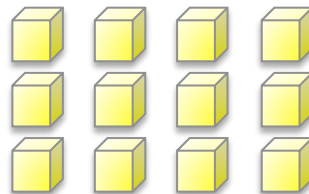
Mon frère a 10 billes.

8



Chaque élève aura 3 crayons.

4



Chacune aura 3 cartes.