



Évaluation

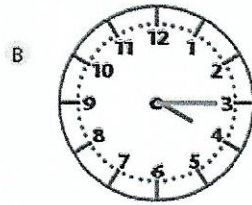
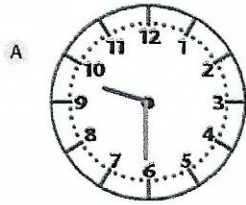
Durées

Je sais faire

non avec aide oui

1 Je connais les unités de mesure de durée

- Écris l'heure indiquée par chaque horloge.



Horloge A :

Horloge B :

- Complète les égalités.

a. 65 s = min s

e. 4 h = min

b. 2 min 30 s =

f. 24 h =

c. 360 s = min

g. 180 min = h

d. 6 min 45 s = s

h. 12 h = min

Je sais faire

non avec aide oui

2 Je sais calculer des durées

- Écris le complément en minutes.

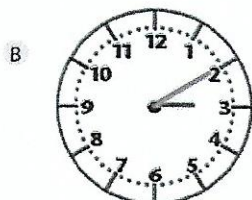
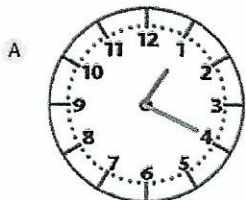
a. 24 min + min = 1 h 00

b. 38 min + min = 1 h 00

c. min + 12 min = 1 h 00

d. 18 min + min = 1 h 00

- Écris la durée écoulée entre l'heure de l'horloge A et celle de l'horloge B.



.....
.....

La durée écoulée entre l'heure de l'horloge A et celle de l'horloge B est de minutes.

COMPÉTENCES		NON ACQUIS	EN COURS D'ACQUISITION	ACQUIS
Exercice ① : Connaître les unités de mesure de durée.	Manuel p. 182	<input type="checkbox"/>	<input type="checkbox"/>	<input type="checkbox"/>
Exercice ② : Calculer des durées.	Manuel p. 184	<input type="checkbox"/>	<input type="checkbox"/>	<input type="checkbox"/>