



Évaluation

Polygones - Triangles - Quadrilatères

Je sais faire

non avec aide oui

3 Je sais décrire et compléter un triangle

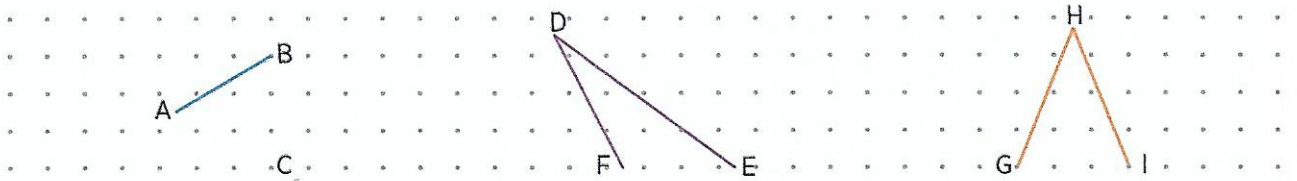
- **Complète** les définitions.

Un triangle _____ possède 3 côtés égaux.

Un triangle quelconque possède _____ côtés de longueurs _____.

Un triangle _____ possède 2 côtés égaux.

- **Complète** chaque triangle.

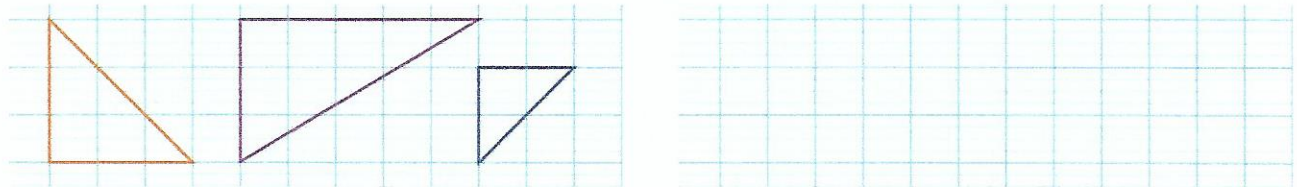


Je sais faire

non avec aide oui

4 Je sais reproduire et construire un triangle rectangle

- **Reproduis** ces triangles rectangles en t'aidant des carreaux.



- **Trace** un triangle EFG, rectangle en F, au dos de la feuille.

Je sais faire


non avec aide oui

5 Je sais construire un carré, un losange, un rectangle (1)

- **Trace** les figures.

a. Un carré dont les côtés mesurent 5 carreaux.

b. Un rectangle de 6 carreaux de longueur et de 2 carreaux de largeur.



COMPÉTENCES		NON ACQUIS	EN COURS D'ACQUISITION	ACQUIS
Exercice 3 : Décrire et compléter un triangle.	Manuel p. 128	<input type="checkbox"/>	<input type="checkbox"/>	<input type="checkbox"/>
Exercice 4 : Reproduire et construire un triangle rectangle.	Manuel p. 130	<input type="checkbox"/>	<input type="checkbox"/>	<input type="checkbox"/>
Exercice 5 : Construire un carré, un losange, un rectangle.	Manuel p. 132	<input type="checkbox"/>	<input type="checkbox"/>	<input type="checkbox"/>