



Évaluation


Droites et segments

Je sais faire

non avec aide oui

3 Je sais identifier, vérifier et tracer des droites perpendiculaires

● **Observe** les droites et **complète** le tableau.



Perpendiculaires	Non perpendiculaires
.....

● **Construis** les figures au dos de la feuille.

a. Deux droites perpendiculaires en un point O.

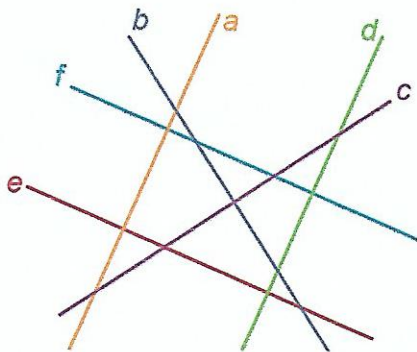
b. Deux droites d et e qui se coupent mais non perpendiculaires.

Je sais faire

non avec aide oui

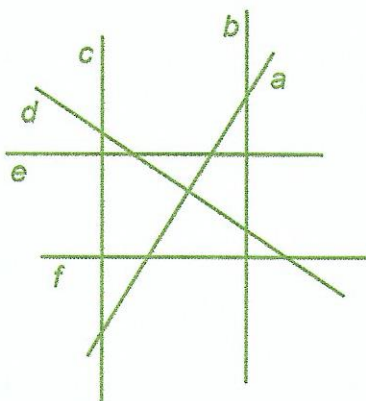
4 Je sais identifier des droites parallèles

● **Observe** les droites et **complète** le tableau.



Parallèles	Non parallèles
.....
.....
.....

● **Observe** ce réseau de droites et **note** les droites parallèles.



.....

.....

.....

COMPÉTENCES		NON ACQUIS	EN COURS D'ACQUISITION	ACQUIS
Exercice 3 : Identifier, vérifier et tracer des droites perpendiculaires.	Manuel p. 144	<input type="checkbox"/>	<input type="checkbox"/>	<input type="checkbox"/>
Exercice 4 : Identifier des droites parallèles.	Manuel p. 146	<input type="checkbox"/>	<input type="checkbox"/>	<input type="checkbox"/>