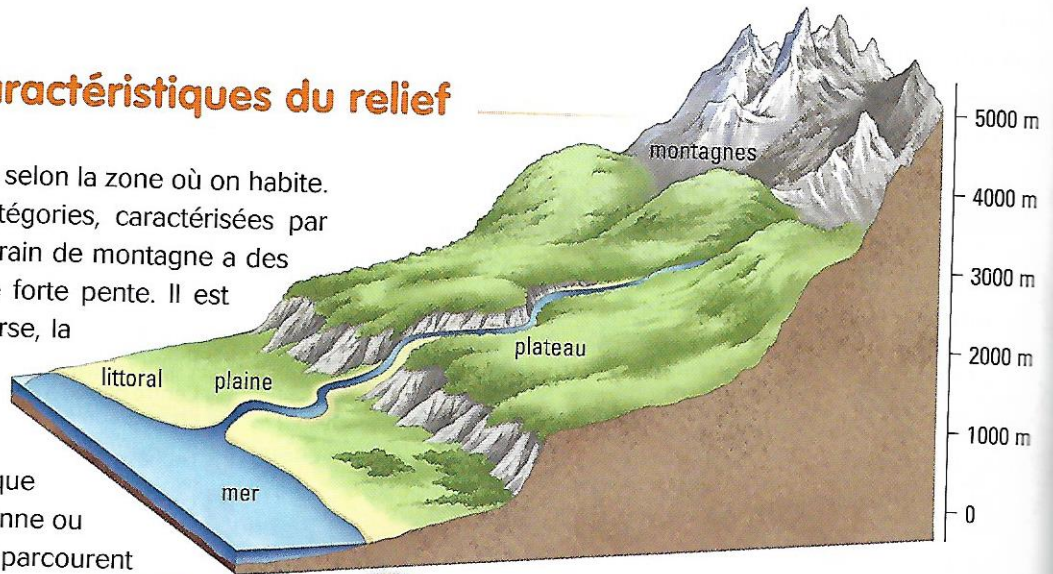


5

Quel est le relief de ta région ?

A Les caractéristiques du relief

Le relief n'est pas le même selon la zone où on habite. Il en existe différentes catégories, caractérisées par l'altitude et la pente. Le terrain de montagne a des altitudes élevées avec une forte pente. Il est souvent accidenté. À l'inverse, la surface des plateaux, comme celle des plaines, est plane. L'altitude des plaines est basse, alors que celle des plateaux est moyenne ou élevée. Les cours d'eau qui parcourent les plateaux circulent dans des vallées profondes.




1 Les différentes formes de relief


- Quel type de relief correspond à la région où tu habites ?

B Une particularité française : un littoral étendu


La France est bordée par un océan et trois mers : l'océan Atlantique, la Manche, le mer du Nord, la mer Méditerranée. Les côtes françaises de métropole s'étendent sur plus de 5 500 km (sur 19 000 km en comptant les territoires d'outre-mer). Elles offrent une grande variété de paysages : on y trouve des falaises, des côtes rocheuses, des côtes sablonneuses.



3 Une côte sablonneuse : Le Porge (Gironde)



2 Un littoral de falaises : Étretat (Seine-Maritime)



4 Une côte rocheuse : la pointe des Poulains, Belle-Ile-en-mer (Morbihan)

- Décris ces trois types de littoraux (matière, forme, hauteur, tracé).