


Séance 1

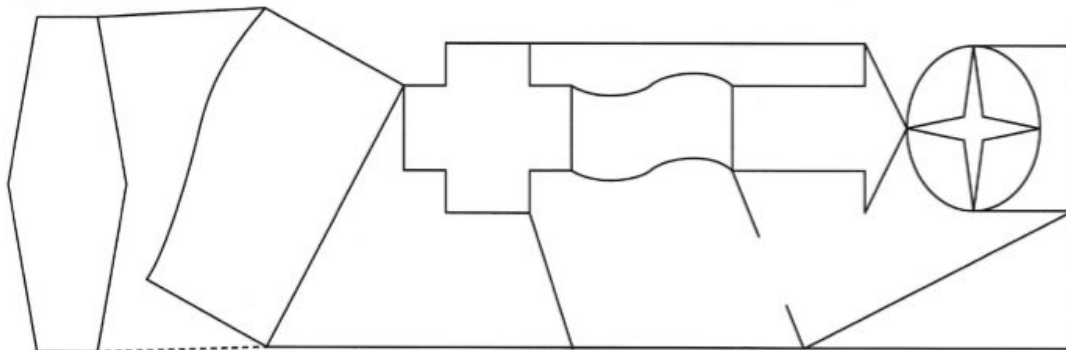
Tri des figures: donner d'abord les 9 premières figures à trier puis les 9 autres.



Exercice 1: Colorie uniquement les polygones.

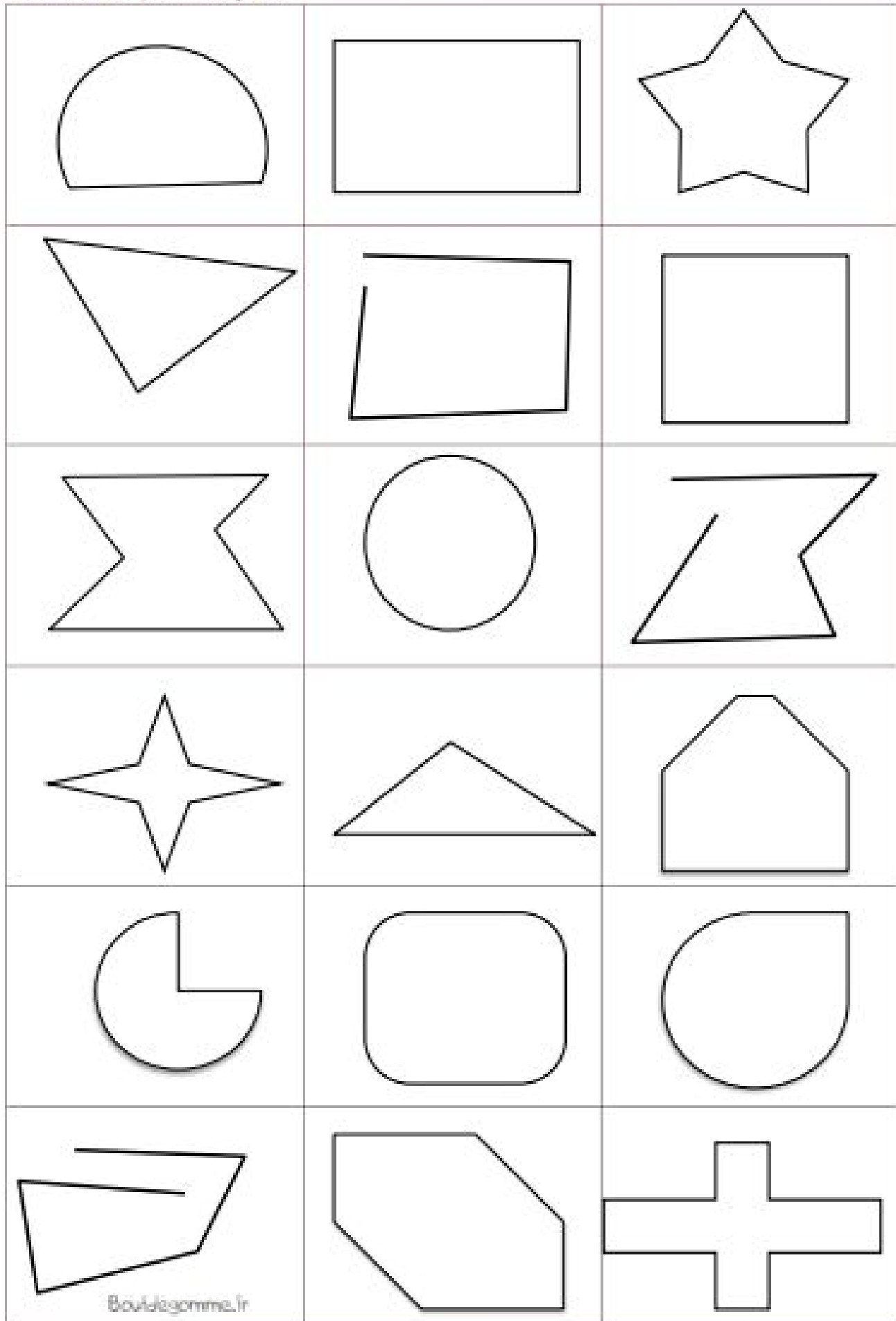


Exercice 2: Colorie uniquement les polygones.

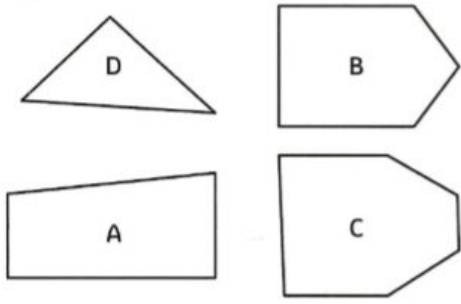


Séance 2

Montrer les figures à l'élève et lui demander si c'est un polygone ou non. Lui demander de justifier à chaque fois.




Exercice 1: Complète le tableau ci-dessous.



| Figure | Nom du polygone | Nombre de côtés |
|--------|-----------------|-----------------|
| A | | |
| B | | |
| C | | |
| D | | |

Exercice 2: Relie chaque polygone à son nom et à sa propriété

pentagone triangle hexagone quadrilatère



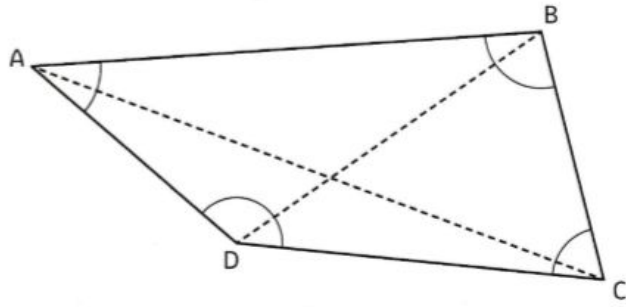
2 côtés 5 sommets 9 côtés 3 angles 4 côtés 8 angles 6 sommets

Séance 3

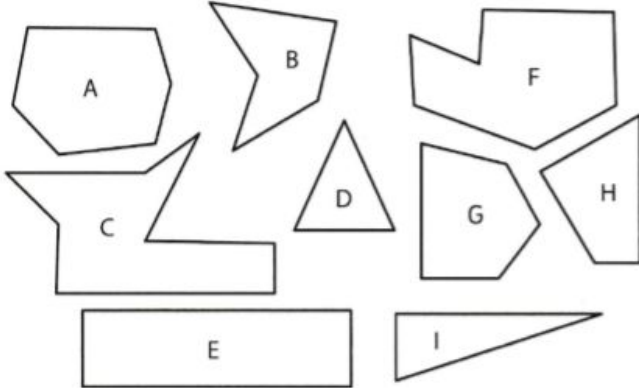
Exercice 1: Utilise les bonnes couleurs pour repérer les différentes parties de ce polygone.

② Utilise les bonnes couleurs pour repérer les différentes parties de ce polygone.

- En rouge, entoure les sommets.
- En vert, repasse les côtés.
- En bleu, repasse les diagonales.
- En jaune marque les angles.



Exercice 2: Complète le tableau.



| Figures | Nom du polygone | Nombre de côtés | Nombre de sommets |
|---------|-----------------|-----------------|-------------------|
| | | | |
| | | | |
| | | | |
| | | | |
| | | | |
| | | | |
| | | | |

DÉFI

⑦ Colorie le dessin suivant le code couleur.

- Vert : quadrilatère
- Bleu : triangle
- Jaune : pentagone
- Rouge : hexagone

