

Durée



Lundi et mardi

Jeudi et vendredi


2h30-
3h

Calcul

Situation de partages par 2 vers la table x2

Niveau 1	Niveau 2	Niveau 3
<p>Enoncé Tu as 2 boîtes de 6 jetons. Combien y-a-t-il de jetons en tout ?</p> <p><i>Aide à proposer</i></p> 	<p>Enoncé Si un livre coûte 15€, combien coûtent 2 livres ?</p> <p><i>Aide à proposer</i></p> 	<p>Enoncé Un jouet coûte 20€. Combien coûtent 2 objets ?</p>

Le collier :

On cherche le nombre de parts. 
Sur la cordelette on fait des paquets de 2

Cherche combien de paquets de 2 perles tu peux faire avec 10 perles, 20 perles, 30 perles ?

Fiche les 3 premiers pages table de x2

Voici le résultat à obtenir et à reproduire dans le cahier jaune de règles de mathématiques

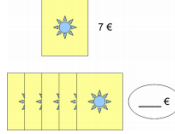
Nombre de perles sur la ficelle	2	4	6	8	10	12	14	16	etc
Nombre de paquets de 2 perles	1	2	3	4	5	6	7	8	...

Calcul

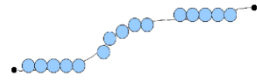
Réinvestissement : Je cherche la moitié des nombres suivants : 4/6/8/10/12/20 pour aller plus loin 40/60/80/100

Après avoir manipuler, chercher à partager une quantité en deux parties égales

Situation de partages par 5

Niveau 1	Niveau 2	Niveau 3
<p>Enoncé Tu as 4 boîtes de 5 jetons. Combien y-a-t-il de jetons en tout ?</p> <p><i>Aide à proposer</i> 4 gobelets de 5 jetons</p>	<p>Enoncé 1 pochette de cartes à jouer coûte 7€. Combien coûtent 5 pochettes ?</p> 	<p>Enoncé 2 pochettes de cartes à jouer coûtent 14€. Combien coûte 1 pochette ?</p>

Le collier :

On cherche le nombre de parts. 
Sur la cordelette on fait des paquets de 5

Fiche les 3 derniers pages table de x5

Voici le résultat à obtenir et à reproduire dans le cahier jaune de règles de mathématiques

Nombre de perles sur la ficelle	5	10	15	20	25	30	35	40
Nombre de paquets de 5 perles	1	2	3	4	5	6	7	8

Chant

<https://www.youtube.com/watch?v=pe3F6Pp4hQk>

Sport

Partage avec les copains/copines un jeu que tu aimes faire dehors.

Envoi un schéma ou un dessin ou un texte ou une courte vidéo...j'attends vos retours, déjà 9 reçus !