



LES FRACTIONS DECIMALES

1. Schreibe den Dezimalbruch.




$$\frac{6}{10}$$



$$\frac{48}{100}$$




$$\frac{8}{10}$$




$$\frac{73}{100}$$


2. Male die Kästchen für jede Dezimalbruch.



$$\text{Fraction : } \frac{15}{100}$$



$$\text{Fraction : } \frac{3}{10}$$



$$\text{Fraction : } \frac{81}{100}$$



$$\text{Fraction : } \frac{9}{10}$$

3. Schreibe die Dezimalbrüche in Ziffern.

quarante-deux centièmes : $\frac{42}{100}$

soixante-quinze centièmes : $\frac{75}{100}$

Six millièmes : $\frac{6}{1000}$


Cent-douze centièmes : $\frac{112}{100}$

acht Zehntel : $\frac{8}{10}$

dreiundfünfzig Tausendstel : $\frac{53}{1000}$

vierunddreißig Zehntel : $\frac{34}{10}$

fünfzig Hundertstel : $\frac{50}{100}$



4. Schreibe die Dezimalbrüche in Buchstaben.

$\frac{38}{100}$: dreizehn-huit centièmes

$\frac{45}{1000}$: quarante-cinq millièmes

$\frac{2}{10}$: zwei Zehntel

$\frac{38}{100}$: achtunddreißig Hundertstel

